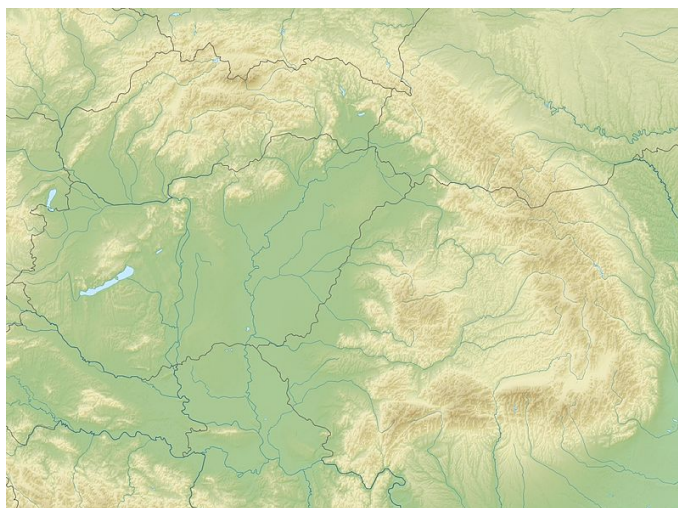


**Міністерство освіти і науки України  
ДВНЗ «Прикарпатський університет імені Василя  
Стефаника»**

**Йосип Гілецький**

**ФІЗИЧНА ГЕОГРАФІЯ УКРАЇНСЬКИХ  
КАРПАТ:  
Тематичний збірник тестів**



**Івано-Франківськ, 2021**

**Міністерство освіти і науки України  
ДВНЗ «Прикарпатський університет імені Василя  
Стефаника»  
Факультет природничих наук  
Кафедра географії та природознавства**

**Йосип Гілецький**

# **Фізична географія Українських Карпат: Тематичний збірник тестів**

*для здобувачів вищої освіти денної і заочної форм навчання  
спеціальності 106 «Географія»*

**Івано-Франківськ, 2021**

*Рекомендовано до друку вченою радою факультету природничих наук  
Прикарпатського національного університету імені Василя Стефаника  
(протокол №2 від 18.02. 2021)*

*Схвалено на засіданні кафедри географії та природознавства  
Прикарпатського національного університету імені Василя Стефаника  
(протокол №7 від 29.01. 2021)*

УДК 528.48 (528.9)

**Гілецький Й.Р.**

Фізична географія Українських Карпат: тематичний збірник тестів.  
Івано-Франківськ. 2021. 50 с.

Рецензенти:

*Закутинська І.І.* – кандидат географічних наук, доцент кафедри географії та природознавства ДВНЗ «Прикарпатський національний університет імені Василя Стефаника».

*Гнатюк Р.М.* – кандидат географічних наук, доцент кафедри геоморфології Львівського національного університету імені Івана Франка.

Посібник містить тести з усіх основних тем курсу «Фізична географія Українських Карпат». Вони дають змогу студентам здійснювати самоконтроль ступеня оволодіння навчальним матеріалом з предмета, готуватися до тематичного тестового контролю знань.

© Й.Р.Гілецький, 2021  
©Прикарпатський національний  
університет імені В. Стефаника», 2021

## **Тема 1. Українські Карпати – частина Карпатської гірської країни**

1. Карпатська гірська країна та її складові частини.
2. Загальні риси природи основних фізико-географічних провінцій Карпат.
3. Українські Карпати як складова Східних Карпат.

### **Тест**

1. Карпатська гірська країна простяглася велетенською дугою від правобережжя Дунаю поблизу австрійського міста Гайнбург на Дунаї до сербського міста Ниш на:  
А 110 км;  
Б 280 км;  
В 1200 км;  
Г 1500 км.
2. Карпатська гірська країна має площу:  
А 18,8 тис. км<sup>2</sup>;  
Б 188 тис. км<sup>2</sup>;  
В 688 тис. км<sup>2</sup>;  
Г 1880 тис. км<sup>2</sup>.
3. Карпатська гірська країна у порівнянні з Альпами має:  
А меншу площу, але більшу протяжність;  
Б більшу площу, але меншу протяжність;  
В більшу висоту, але меншу протяжність;  
Г більшу площу, але меншу висоту.
4. До складу території скількох держав входять частини Карпатської гірської країни?  
А 4;  
Б 6;  
В 8;  
Г 10.
5. До складу якої держави входить найбільша частина площі Карпатської гірської країни?  
А Словаччини;  
Б Польщі;

- В** Румунії;  
**Г** України.
- 6.** До складу якої держави входить найменша частина площі Карпатської гірської країни?  
**А** Чехії;  
**Б** Польщі;  
**В** Угорщини;  
**Г** Австрії.
- 7.** До складу території скількох фізико-географічних країв (провінцій) відносять науковці частини Карпатської гірської країни?  
**А** 4;  
**Б** 6;  
**В** 8;  
**Г** 10.
- 8.** Частину Карпатської гірської країни, яка простяглася від правобережжя Дунаю в Австрії до річки Попрад (басейн Вісли) називають:  
**А** Південними Карпатами;  
**Б** Східними Карпатами;  
**В** Західними Карпатами;  
**Г** Сербськими Карпатами.
- 9.** Один з найдовших середньовисотних гірських масивів Західних Карпат, що тягнеться по обидва боки від кордону Словаччини і Польщі має назву:  
**А** Східні Бескиди;  
**Б** Західні Бескиди  
**В** Татри;  
**Г** Білі Карпати.
- 10.** Найвисокогірніший масив Карпатської гірської країни:  
**А** Бещади;  
**Б** Родна  
**В** Татри;  
**Г** Білі Карпати.

11. Найвища вершина Карпатської гірської країни:  
А Говерла;  
Б Герлаховський щит;  
В П'єтрос;  
Г Молдов'яну.
12. Найвища вершина Карпатської гірської країни має висоту:  
А 2061 м;  
Б 2303 м;  
В 2655 м;  
Г 3544 м.
13. 22 найвищі вершини Карпат з висотами понад 2500 м знаходяться у Високих Татрах у межах території:  
А Словаччини;  
Б Польщі;  
В Румунії;  
Г України.
14. Найвища вершина Карпат у Польщі висотою 2499 м:  
А Баб'я;  
Б Кукурбета;  
В Тарниця;  
Г Риси.
15. Частину Карпатської гірської країни, яка простяглася від річки Попрад до річки Прагова, називають:  
А Південними Карпатами;  
Б Східними Карпатами;  
В Західними Карпатами;  
Г Сербськими Карпатами.
16. Частиною Східних Карпат є:  
А Чеські Карпати;  
Б Українські Карпати;  
В Трансільванське плато;  
Г Сербські Карпати.
17. Найвища вершина Східних Карпат:  
А Говерла;  
Б Феркеу;

- В** П'єтрос;  
**Г** Молдов'яну.
- 18.** Найвища вершина Східних Карпат знаходиться у межах території:  
**А** Словаччини;  
**Б** Польщі;  
**В** Румунії;  
**Г** України.
- 19.** Усю частину Східних Карпат, що знаходиться у межах Румунії, називають:  
**А** Молдово-Семиградськими Карпатами;  
**Б** Мармароськими Карпатами;  
**В** Роднянськими Альпами;  
**Г** Західними Румунськими горами.
- 20.** З північного заходу на південний схід більш як на 270 км, при ширині близько 100 км, у межах Східних Карпат від Сяну до Сучави простяглися:  
**А** Українські Карпати;  
**Б** Західні Бескиди;  
**В** Бещади;  
**Г** Молдово-Семиградські Карпати.
- 21.** Найвища вершина Східних Карпат знаходиться у масиві:  
**А** Мармароському;  
**Б** Фегераш;  
**В** Тарниці;  
**Г** Родна.
- 22.** Найвища вершина Східних Карпат має висоту:  
**А** 2061 м;  
**Б** 2303 м;  
**В** 2509 м;  
**Г** 2544 м.
- 23.** Вершина Феркеу (1958 м) знаходиться у Східних Карпатах поблизу кордну з Ураїною у масиві:  
**А** Мармароському;  
**Б** Фегераш;  
**В** Тарниці;

- Г Родна.
24. Група вершина з висотами понад 2100 м знаходиться у Східних Карпатах поблизу кордну з Ураїною у масиві:  
А Ретезат;  
Б Фегераш;  
В Тарниці;  
Г Родна.
25. Частину Карпатської гірської країни, яка лежить на захід від Трансільванського плато, називають:  
А Південними Карпатами;  
Б Західними Румунськими горами;  
В Західними Карпатами;  
Г Сербськими Карпатами.
26. Найвища вершина Західних Румунських гір:  
А Бельяніца;  
Б Кукурбета;  
В Тарниця;  
Г Молдов'яну.
27. Висоти поверхні не перевищують 1000 у межах:  
А Південних Карпат;  
Б Східних Карпат;  
В Західних Румунських гір;  
Г Трансільванського плато.
28. Частину Карпатської гірської країни, яка простяглася від річки Прагова (притока Яломіци) до Залізних Воріт на Дунаї, називають:  
А Південними Карпатами;  
Б Східними Карпатами;  
В Західними Карпатами;  
Г Сербськими Карпатами.
29. Високогірних масивів з висотами понад 2500 у Південних Карпатах знаходиться:  
А 2;  
Б 4;  
В 6;  
Г 8.



30. Найвища вершина Південних Карпат знаходиться у масиві:  
А Ретезат;  
Б Фегераш;  
В Паранг;  
Г Бучеджі.
31. Найвища вершина Сербських Карпат, яка знаходиться у масиві Ртань, має висоту 1570 м. Це гора:  
А Бельяніца;  
Б Шиляк;  
В Тарниця;  
Г Пеляга.

## Тема 2. Геологічна будова та історія розвитку

1. Загальні риси геологічної будови.
2. Розвиток рельєфу Карпат.
3. Тектонічні структури Українських Карпат.
4. Четвертинні відклади.

### Тест

32. У тектонічному відношенні Карпатська гірська країна є частиною:  
А складчастих споруд герцинської складчастості;  
Б Балтійського кристалічного щита;  
В альпійських споруд Європейського Середземномор'я;  
Г складчастих споруд каледонської складчастості.
33. У тектонічному відношенні Карпатська гірська країна поділяється на дві відмінні у своєму геологічному розвитку частини:  
А Внутрішні (Флішеві) і Зовнішні Карпати;  
Б Внутрішні (Полонининські) і Скибові Карпати;  
В Внутрішні і Зовнішні (Флішеві) Карпати;  
Г Внутрішні і Зовнішні (Вулканічні) Карпати.
34. Товщина земної кори Внутрішніх Карпат у межах Українських Карпат сягає 30 км, а Флішевих:  
А 20 км;  
Б 40 км;

- В** 60 км;  
**Г** 80 км.
- 35.** У будові Українських Карпат, що належать до тектонічних зон Флішевих Карпат науковці виділяють чотири яруси, з яких третій, який сформований товщами флішу за віком є:
- А** протерозойським;  
**Б** палеозойським;  
**В** мезозойсько-палеогеновим;  
**Г** палеогеново-неогеновим.
- 36.** Метаморфічні гнейсово-сланцеві і кварцито-сланцеві породи, які в окремих місцях прорвані гранітами магматичного походження, формують ярус порід у Карпатах:
- А** протерозойський;  
**Б** палеозойський;  
**В** мезозойсько-палеогеновий;  
**Г** неогеново-плейстоценовий.
- 37.** Товщі відкладень якого віку були піддані процесам герцинського етапу горотворення, що привело до утворення гірської складчастої країни, яку у наукових джерелах називають Пракарпатами?
- А** протерозойського (1700–800 млн. років);  
**Б** палеозойського (500–240 млн років);  
**В** мезозойсько-палеогенового (200–35 млн. років) ;  
**Г** неогеново-плейстоценового (25–2 млн. років).
- 38.** Моласові товщі неогенового віку залягають в основному у межах
- А** Мармароського масиву;  
**Б** Скибової зони Карпат;  
**В** Дуклянської зони Карпат;  
**Г** крайових прогинів.
- 39.** Межа між Внутрішніми і Зовнішніми (Флішевими) Карпатами проходить по:
- А** Передкарпатському крайовому прогину;  
**Б** Закарпатському крайовому прогину;  
**В** Закарпатському глибинному розлому;  
**Г** гряді похованих вулканів.

40. Тектонічний розлом, який розділяє Внутрішні і Зовнішні (Флішеві) Карпати простягається вздовж:  
А зони Пенінських стрімчаків;  
Б Зовнішньої зони Передкарпатського крайового прогину;  
В Кросненської зони Карпат;  
Г Скибової зони Карпат.
41. Флішеві товщі Зовнішніх Карпат за віком здебільшого:  
А тріасові та юрські;  
Б юрські та крейдові;  
В крейдові та палеогенові;  
Г палеогенові та неогенові.
42. У межах Українських Карпат до тектонічних зон Зовнішніх (Флішевих) Карпат не належить:  
А Скибова зона Карпат;  
Б Кросненська зона Карпат;  
В зона Полонинсько-Чорногірських покривів;  
Г Чоп-Мукачівська западина.
43. Зовнішній край Українських Карпат прилягає до Західноєвропейської та Східноєвропейської платформ:  
А Скибовою зоною Карпат;  
Б Зовнішньою зоною Передкарпатського крайового прогину;  
В Внутрішньою зоною Передкарпатського крайового прогину;  
Г зоною Пенінських стрімчаків.
44. Зовнішньою антиклінальною у межах Українських Карпат є зона:  
А Скибова;  
Б Дуклянська;  
В Кросненська;  
Г Магурська.
45. Центральною синклінальною у межах Українських Карпат є зона:  
А Скибова;  
Б Дуклянська;  
В Кросненська;  
Г Магурська.

46. До флішевих покривів Внутрішньої антиклінальної тектонічної зони Українських Карпат не належить:
- А Скибовий;
  - Б Дуклянський;
  - В Поркулецький;
  - Г Магурський.
47. У межах Українських Карпат до тектонічних зон Внутрішніх Карпат не належить:
- А Мармароський масив;
  - Б Внутішня зона Передкарпатського крайового прогину;
  - В зона Мармароських стрімчаків;
  - Г зона Пенінських стрімчаків.
48. Тектонічна структура, складена комплексом метаморфічних утворень протерозойсько-ранньопалеозойського віку:
- А зона Пенінських стрімчаків;
  - Б Мармароський масив;
  - В Кросненська зона Карпат;
  - Г Чоп-Мукачівська западина.
49. Ефузивний неогеновий вулканізм (10–12 млн років тому) проявився вздовж Припанонського глибинного розлому у межах:
- А зони Пенінських стрімчаків;
  - Б Мармароського масиву;
  - В Кросненської зони Карпат;
  - Г Чоп-Мукачівської западини.
50. Вздовж Закарпатського глибинного розлому в міоцені (7–5 млн років тому) тривав андезитовий вулканізм. З ним пов'язане утворення:
- А зони Пенінських стрімчаків;
  - Б Мармароський масив;
  - В Вигорлат-Гутинського вулканічного пасма;
  - Г гряди похованих вулканів.

### Тема 3-4. Геоморфологічне районування та рельєф

1. Геоморфологічні процеси та геоморфологічне районування.
2. Особливості рельєфу
  - Передкарпатської передгірної височини,
  - Зовнішньофлішевих (Скибових) Карпат,
  - Вододільно-Верховинських Карпат,
  - Полонинсько-Чорногірських Карпат,
  - Мармароського кристалічного масиву,
  - Закарпатського низькогір'я,
  - Закарпатської рівнини.

#### Тест

51. На основі багаторічних досліджень у межах Українських Карпат прийнято виділяти геоморфологічних областей:

А 4;

Б 6;

В 7;

Г 12.

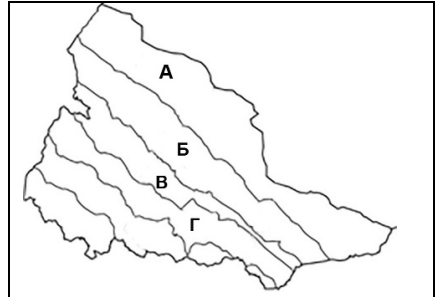
52. Вкажіть якою буквою позначено на картосхемі геоморфологічну область Зовнішньофлішевих Карпат:

А

Б

В

Г



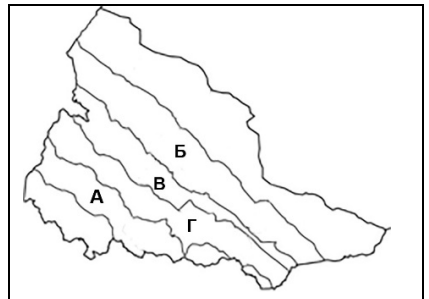
53. Вкажіть якою буквою позначено на картосхемі геоморфологічну область Полонинсько-Чорногірських Карпат:

А

Б

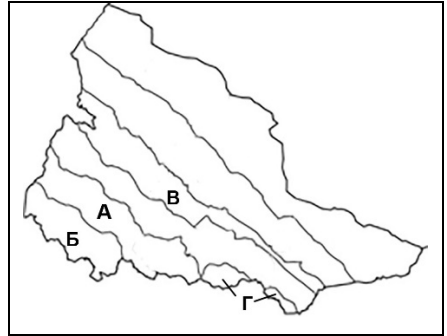
В

Г



54. Вкажіть якою буквою позначено на картосхемі геоморфологічну область Закарпатського низькогір'я:

- А
- Б
- В
- Г



55. На скільки підобластей поділяють більшість геоморфологічних областей Українських Карпат?

- А 2;
- Б 3;
- В 4;
- Г 5.

56. У межах якої з геоморфологічних областей Українських Карпат виділяють дві підобласті?

- А Закарпатського низькогір'я;
- Б Зовнішньофлішевих Карпат;
- В Передкарпатської передгірної височини;
- Г Полонинсько-Чорногірських Карпат.

57. У межах якої з геоморфологічних областей Українських Карпат виділяють три підобласті?

- А Закарпатського низькогір'я;
- Б Мармароського кристалічного масиву;
- В Вододільно-Верховинських Карпат;
- Г Закарпатської низовини.

58. У межах якої геоморфологічні підобласті виділяють підобласть Скибових Горган?

- А Закарпатського низькогір'я;
- Б Зовнішньофлішевих Карпат;
- В Передкарпатської передгірної височини;
- Г Полонинсько-Чорногірських Карпат.

59. У межах якої геоморфологічної підобласті виділяється підобласть Сянсько-Ріцької верховини?  
А Закарпатського низькогір'я;  
Б Зовнішньофлішевих Карпат;  
В Вододільно-Верховинських Карпат;  
Г Полонинсько-Чорногірських Карпат.
60. У межах якої геоморфологічної підобласті виділяється підобласть Гринявсько-Яловичорських Карпат?  
А Закарпатського низькогір'я;  
Б Передкарпатської передгірної височини;  
В Вододільно-Верховинських Карпат;  
Г Полонинсько-Чорногірських Карпат.
61. В основі Передкарпатської передгірної височини лежить:  
А Скибова зона Карпат;  
Б крайовий прогин;  
В Кросненська зона Карпат;  
Г зона Полонинсько-Чорногірських покривів.
62. Ще 10–5 млн. років тому тектонічна зона Передкарпатського крайового прогину разом із південно-західною частиною Східноєвропейської була затоплена морем:  
А Зовнішнім;  
Б Тортонським;  
В Пракарпатським;  
Г Сарматським.
63. До хребтів Карпат прилягає зона Передкарпатського крайового прогину:  
А Зовнішня;  
Б Внутрішня (Бориславсько-Покутська);  
В Більче-Волицька;  
Г епіплатформа.
64. У межах Передкарпатської передгірної височини **НЕ** виділяють підобласті:  
А Приподільського Передкарпаття;  
Б Прибескидського Передкарпаття;  
В Пригорганського Передкарпаття;  
Г Покутсько-Буковинського Передкарпаття.

65. Прибескидське Передкарпаття простягається від українсько-польського кордону до річки:  
А Стрий;  
Б Свічі;  
В Чечви;  
Г Лімниці.
66. Найбільші висоти (до 519 м) фіксуються у Прибескидському Передкарпатті у межах височини:  
А Присвічанської;  
Б Гвіздської;  
В Радицької;  
Г Войнилівської.
67. Вершини з висотами понад 600 м є у межах:  
А Покутсько-Буковинського Передкарпаття;  
Б Прибескидського Передкарпаття;  
В тільки Пригорганського Передкарпаття;  
Г усіх трьох підобластей Передкарпатської передгірної височини.
68. Гора Клива (869 м) знаходиться у межах:  
А Радицької височини;  
Б Майданського горбогір'я;  
В Слобода-Рунгурського горбогір'я;  
Г Гвіздського горбогір'я.
69. Вершина гори Клива є найвищою точкою:  
А Покутсько-Буковинського Передкарпаття;  
Б Прибескидського Передкарпаття;  
В тільки Пригорганського Передкарпаття;  
Г усієї Передкарпатської передгірної височини.
70. У Пригорганському Передкарпатті висоти понад 800 м наявні також у межах:  
А Присвічанської височини;  
Б Войнилівської височини;  
В Слобода-Рунгурського горбогір'я;  
Г Гвіздського горбогір'я.



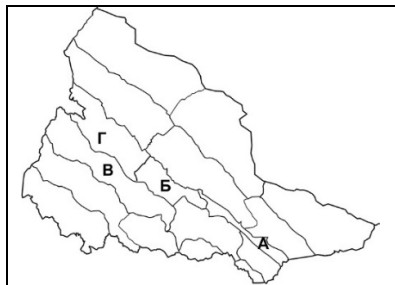
71. Розділяє Пригорганську та Покутсько-Буковинську підобласті Передкарпаття річка:  
А Рибниця;  
Б Свіча;  
В Черемош;  
Г Лючка.
72. Найбільші абсолютні висоти у межах Покутсько-Буковинського Передкарпаття сягають до:  
А 450 м;  
Б 550 м;  
В 650 м;  
Г 750 м.
73. Скибовому тектонічному покриву разом із частиною Бориславсько-Покутського покриву Внутрішньої зони крайового прогину відповідають:  
А Зовнішньофлішеві Карпати;  
Б Українські Східні Бескиди;  
В Скибові Горгани;  
Г Вододільно-Верховинські Карпати.
74. До Зовнішньофлішевих Карпат належать підобласті:  
А Свидовецько-Чорногірська;  
Б Сянсько-Ріцька верховина;  
В Українські Східні Бескиди;  
Г Привододільні Горгани.
75. До Зовнішньофлішевих Карпат належать підобласті:  
А Гринявко-Яловичорські Карпати;  
Б Бистрице-Селятинського низькогір'я;  
В Полонинське пасмо;  
Г Скибові Горгани.
76. До Зовнішньофлішевих Карпат *не* належить підобласть:  
А Покутсько-Буковинські Карпати;  
Б Солотвинське низькогір'я;  
В Українські Східні Бескиди;  
Г Скибові Горгани.

77. Частина Бориславсько-Покутського покриву Внутрішньої зони крайового прогину лежить в основі прилеглих до височини хребтів підобласті:  
А Покутсько-Буковинських Карпат;  
Б Солотвинського низькогір'я;  
В Українських Східних Besкидів;  
Г Скибових Горган.
78. Загальною особливістю рельєфу є переважання відносно невисоких хребтів (800–1200 м над рівнем моря), поширення скель-останців, які здебільшого утворені масивними ямненськими пісковиками (скелі Бубнища, Ямельниці, Тишівниці, Кам'янки, гори Ключ):  
А Покутсько-Буковинські Карпати;  
Б Сянсько-Ріцька верховина;  
В Українські Східні Besкиди;  
Г Скибові Горгани.
79. Межу між Українськими Східними Besкидами та Скибовими Горганами проводять по річці:  
А Опір;  
Б Лужанка;  
В Мізунка;  
Г Лімниця.
80. Найвищою вершиною Українських Східних Besкидів з відміткою 1362 м є:  
А Парашка;  
Б Магура;  
В Видноха;  
Г Яворина.
81. Найвища вершина Українських Східних Besкидів знаходиться у частині підобласті, яку називають Besкидами:  
А Верхнодністерськими;  
Б Стрийськими;  
В Сколівськими;  
Г Болехівськими.

82. Гора Сивуля Велика — найвища вершина:  
А Вододільно-Верховинських Карпат;  
Б Зовнішньофлішевих Карпат;  
В Полонинсько-Чорногірських Карпат;  
Г Закарпатського низькогір'я.
83. Гора Сивуля Велика знаходиться у геоморфологічній підобласті:  
А Покутсько-Буковинських Карпат;  
Б Привододільні Горгани;  
В Українські Східних Beskidів;  
Г Скибових Горган.
84. Великі за площею кам'яні розсипи пісковиків у привершинній частині середньовисотних гірських хребтів наявні у геоморфологічній підобласті:  
А Покутсько-Буковинські Карпати;  
Б Рахівських гір;  
В Українські Східні Beskidi;  
Г Скибові Горгани.
85. Межу між Скибовими Горганами та Покутсько-Буковинськими Карпатами проводять по річці:  
А Буківець;  
Б Лужанка;  
В Білий Черемош;  
Г Лімниця.
86. Вкажіть вершини Скибових Горган, які мають висоти понад 1800 м:  
А Парашка, Молода;  
Б Висока, Ігровець;  
В Видноха, Петрос;  
Г Клива, Довбушанка.
87. Вкажіть вершини Скибових Горган, які мають висоти понад 1700 м:  
А Парашка, Молода;  
Б Синяк, Хом'як;  
В Яйко Ілемське, Петрос;  
Г Попадя, Грофа.

- 88.** Вкажіть вершини Скибових Горган, які мають висоти понад 1700 м:  
А Пареньки, Молода;  
Б Синяк, Хом'як;  
В Яйко Ілемське, Явірник;  
Г Ротил, Грегїт.
- 89.** Висоти вершин зазвичай сягають 800–1200 м, досить поширені скельні останці (Протяті камені, Писаний Камінь, скелі Кінашки, скелі Сокільського, Терношори) у:  
А Покутсько-Буковинських Карпатах;  
Б Сянсько-Ріцька верховина;  
В Українських Східні Besкиди;  
Г Скибові Горгани.
- 90.** Скибова зона лежить тільки в основі найвищих хребтів підобласті:  
А Покутсько-Буковинські Карпати;  
Б Чивчинських гір;  
В Українські Східні Besкиди;  
Г Скибових Горган.
- 91.** Найвища точка усіх Покутських Карпат (1223 м) – гора:  
А Магура;  
Б Муралевиця;  
В Писаний Камінь;  
Г Лисина Космацька.
- 92.** Найвища точка усіх Покутсько-Буковинських Карпат – гора:  
А Магура;  
Б Синиця;  
В Осередок;  
Г Лунгул.
- 93.** Скельні останці Писаний Камінь, Сокільського хребта, Терношори знаходяться у:  
А Буковинських Карпатах;  
Б Довбушанських Горганах;  
В Покутських Карпатах;  
Г Запрутських Горганах.

94. Скельні останці Протяті камені, скелі Кінашки, Скам'яніла Багачка знаходяться у:  
А Буковинських Карпатах;  
Б Довбушанських Горнах;  
В Покутських Карпатах;  
Г Запрутських Горнах.
95. Карпатський головний вододіл, що розділяє Карпати на два макросхили, проходить у:  
А Вододільно-Верховинських Карпатах;  
Б Покутсько-Буковинських Карпатах;  
В Українських Східних Бескидах;  
Г Чивчинських горах.
96. В основі Вододільно-Верховинських Карпат лежить тектонічна зона:  
А Скибова;  
Б Дуклянська;  
В Кросненська;  
Г Магурська.
97. Кросненську тектонічну зону ще називають:  
А Зовнішньою синклінальною;  
Б Центральною синклінальною;  
В Зовнішньою антиклінальною;  
Г Внутрішньою антиклінальною.
98. Назва Вододільно-Верховинські Карпати пов'язана з тим, що тут проходить Карпатський Головний вододіл, який розділяє басейни:  
А Дністра і Тиси;  
Б Сірету і Прута;  
В Прута і Тиси;  
Г Сірету і Тиси.
99. Вкажіть якою буквою позначено на картосхемі геоморфологічну підобласть Сянсько-Ріцької верховини:  
А  
Б  
В  
Г



**100.** Північно-західну частину Вододільно-Веховинських Карпат займає підобласть:

- А** Покутсько-Буковинські Карпати;
- Б** Сянсько-Ріцька верховина;
- В** Привододільні Горгани;
- Г** Бистрице-Селятинського низькогір'я.

**101.** Підобласть Сянсько-Ріцької верховини відділяється від Привододільних Горган долиною річки:

- А** Довжина;
- Б** Свіча;
- В** Ріка;
- Г** Лючка.

**102.** Осьову частину підобласті Сянсько-Ріцької верховини займає:

- А** Верховинський вододільний хребет;
- Б** хребет Пішконя;
- В** хребет Кам'янки;
- Г** Лючка.

**103.** На Верховинському вододільному хребті знаходиться найвища (1408 м) точка Львівської області – гора:

- А** Старостина;
- Б** Чорна Ріпа;
- В** Пікуй;
- Г** Дрогобицький Камінь.

**104.** У верхів'ях Сяну на висоті 852 м знаходиться перевал, через який проходить залізниця і шосе, що з'єднують Ужгород і Самбір:

- А** Латірський;
- Б** Ужоцький;
- В** Середньоверецький;
- Г** Бескидський.

**105.** Автомобільний шлях міжнародного значення Київ – Чоп проходить через перевал:

- А** Латірський;
- Б** Ужоцький;
- В** Середньоверецький;
- Г** Бескидський.

**106.** Гора Братківська з абсолютною висотою 1788 м та ще ціла група вершин з висотами понад 1700 м знаходяться у межах підобласті:

- А Східних Бескидів;
- Б Сянсько-Ріцька верхovina;
- В Привододільні Горгани;
- Г Бистрице-Селятинського низькогір'я.

**107.** Серед вершин Привододільних або Внутрішніх Горган висоту понад 1700 має вершина:

- А Кам'янка;
- Б Канч;
- В Вишківський Горган;
- Г Стримба.

**108.** Серед вершин Привододільних або Внутрішніх Горган висоту понад 1700 має вершина:

- А Довга;
- Б Негровець (Піняш);
- В Плоска;
- Г Стримінос.

**109.** Гора Довга з абсолютною висотою 1371 м та ще декілька вершин з висотами понад 1200 м знаходяться у межах підобласті:

- А Скибові Горгани;
- Б Сянсько-Ріцька верхovina;
- В Привододільні Горгани;
- Г Бистрице-Селятинського низькогір'я.

**110.** Бистрице-Селятинське низькогір'я сформоване системою улоговин та низькогірними прилеглими хребтами, віддаляється від вододілу і вузькою смугою тягнеться до села Селятина поблизу кордону:

- А українсько-молдовського;
- Б українсько-румунського;
- В українсько-угорського;
- Г українсько-словацького.

**111.** Морфоструктурно ця геоморфологічна область Внутрішній антиклінальний тектонічній зоні Флішевих Карпат.

- А Покутсько-Буковинські Карпати;
- Б Полонинсько-Чорногірські Карпати;

- В Українські Східні Бескиди;
- Г Вулканічно-Верхньотисенські Карпати.

112. Найвищі масиви Полонинсько-Чорногірських Карпат:

- А Чорногора і Свидовець;
- Б Чорногора і Красна;
- В Боржава і Свидовець;
- Г Рівна і гори Гриняви.

113. Найліпше виражені сліди діяльності давніх гірських льодовиків масивах Полонинсько-Чорногірських Карпат:

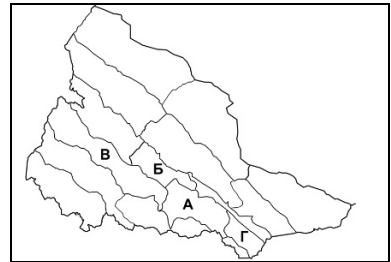
- А Чорногора і Свидовець;
- Б Чорногора і Красна;
- В Боржава і Свидовець;
- Г Рівна і Гори Гриняви.

114. У межі геоморфологічної області Полонинсько-Чорногірських Карпат не входить підобласть:

- А Полонинського пасма;
- Б Свидовецько-Чорногірська;
- В Чивчинських гір;
- Г Гринявсько-Яловичорська.

115. Вкажіть якою буквою позначено на картосхемі геоморфологічну підобласть Полонинського пасма:

- А
- Б
- В
- Г



116. Вкажіть полонину, яка не входить до підобласті Полонинського пасма:

- А Полонина Рівна;
- Б Полонина Яровиця;
- В Полонина Красна;
- Г Полонина Боржава.

117. Вкажіть найвищу за висотами вершин полонину підобласті Полонинського пасма:

- А Полонина Рівна;
- Б Полонина Яровиця;



- В Полонина Красна;  
Г Полонина Боржава.
118. Вкажіть найвищу вершину геоморфологічної підобласті Полонинського пасма:  
А Великий Верх;  
Б Стій;  
В Лютянська Голиця;  
Г Гостра Гора.
119. Вкажіть полонину у межах якої, у низькогірній частині, виділяється Угольсько-Широколужанський масив з вапняковими стрімчаками:  
А Полонина Рівна;  
Б Полонина Свидовець;  
В Полонина Красна;  
Г Полонина Боржава.
120. Полонина Красна межує зі Свидовецько-Чорногірською підобластю Полонинсько-Чорногірських Карпат по річці:  
А Тересва;  
Б Чорна Тиса;  
В Теребля;  
Г Біла Тиса.
121. У межах геоморфологічної області Полонинсько-Чорногірських Карпат льодовикові кари, трогові долини, вершини з висотами понад 1800 м є у підобласті:  
А Полонинського пасма;  
Б Свидовецько-Чорногірській;  
В Рвхівських гір;  
Г Гринявсько-Яловичорській.
122. Гора Близниця Велика – найвища вершина масиву Українських Карпат:  
А Свидовець;  
Б Черногора;  
В Скибові Горгани;  
Г Чивчинські гори.
123. Які схили Свидовця прорізані річками на чотири видовжені майже на два десятки кілометрів відрого?  
А південно-східні;  
Б північно-західні;

- В** південно-західні;  
**Г** північно-східні.
- 124.** Найвищий масив Українських Карпат:  
**А** Свидовець;  
**Б** Черногора;  
**В** Боржава;  
**Г** Чивчинські гори.
- 125.** Масиви Свидовця і Черногори розділяє річка:  
**А** Тересва;  
**Б** Чорна Тиса;  
**В** Кісва;  
**Г** Біла Тиса.
- 126.** На заході масиву Черногора височіє дещо відокремлена великою сідловиною та середньовисотними підняттями від Говерли вершина – двотисячник:  
**А** Піп Іван;  
**Б** Гутин Томнатик;  
**В** Петрос;  
**Г** Бребенескул.
- 127.** Гора Гутин Томнатик (2016 м) знаходиться у масиві Українських Карпат:  
**А** Свидовець;  
**Б** Черногора;  
**В** Рахівські гори;  
**Г** Чивчинські гори.
- 128.** У 30-х роках ХХ ст. була побудована, а у теперішній час відновлюється, астрономічна обсерваторія на горі:  
**А** Піп Іван;  
**Б** Гутин Томнатик;  
**В** Петрос;  
**Г** Бребенескул.
- 129.** До Черногори належить вершина на стику Івано-Франківської та Закрпатської областей і Румунії – гора:  
**А** Смотрич;  
**Б** Менчул;  
**В** Перехрест;  
**Г** Стіг.

- 130.** Найвища точка Чернівецької області – гора Яровиця (1574 м) знаходиться у підобласті:  
А Полонинського пасма;  
Б Свидовецько-Чорногірській;  
В Чивчинських гір;  
Г Гринявсько-Яловичорській.
- 131.** Гринявсько-Яловичорська підобласть межує зі Свидовецько-Чорногірською підобластю Полонинсько-Чорногірських Карпат по річці:  
А Білий Черемош;  
Б Чорна Тиса;  
В Чорний Черемош;  
Г Біла Тиса.
- 132.** Найвища вершина Гринявсько-Яловичорської підобласті – гора:  
А Скупова;  
Б Пнев'є;  
В Яровиця;  
Г Похребтина.
- 133.** Гори Гриняви і Яловичори розділяє річка:  
А Білий Черемош;  
Б Сарата;  
В Чорний Черемош;  
Г Путила.
- 134.** Склепінчасто-брилова палеозойська за віком складчастості споруда, яка утворена дуже давніми метаморфічними породами докембрію і палеозою, що перекриті осадовими частково метаморфізованими відкладами мезозою та палеогену:  
А Вигорлат-Гутинське низькогір'я;  
Б Бистрице-Селятинське низькогір'я;  
В Гринявсько-Яловичорські Карпати;  
Г Мармароський кристалічний масив.

135. У межах української частини Мармароського масиву виділяють два фрагменти:  
А Діловецькі і Чивчинські гори;  
Б Рахівські гори і Гоцульські Альпи;  
В Рахівські і Чивчинські гори;  
Г Рахівські гори і Солотвинське низькогір'я.
136. Гора Піп Іван Мармароський – 1938 м знаходиться у масиві Українських Карпат:  
А Свидовець;  
Б Черногора;  
В Рахівські гори;  
Г Чивчинські гори.
137. Гора Гнатася знаходиться у масиві Українських Карпат:  
А Свидовець;  
Б Черногора;  
В Скибові Горгани;  
Г Чивчинські гори.
138. Найбільш порізана льодовиковими карами гора у Рахівських горах:  
А Петрос Мармароський;  
Б Піп Іван Мармароський;  
В Берлібашка (Лотундур);  
Г Гнатася.
139. Розчленовують північно-східні схили головного хребта Чивчинських гір на численні відроги верхів'я:  
А Чорного і Білого Черемосів;  
Б Сарати і Путили;  
В Чорного Черемосу і Білої Тиси;  
Г Путили і Сучави.
140. Зірваним від основи давнім конусом вулкану у Чивчинських горах є вершина:  
А Чорний Діл;  
Б Сулигул;  
В Чивчин;  
Г Гнатася.

- 141.** Область Закарпатського низькогір'я течією річки Ріка нижче села Липча розділяється на підобласті Вулканічних Карпат (Вигорлат-Гутинського низькогір'я) та:  
А Березне-Липчанської міжгірної долини;  
Б Закарпатської рівнини;  
В Угольсько-Солотвинського низькогір'я;  
Г Берегівського вулканічного горбогір'я.
- 142.** Вершина Бужора – 1086 м – найвища точка усього Вигорлат-Гутинського хребта знаходиться у масиві:  
А Вигорлат;  
Б Маковиця;  
В Тупий;  
Г Великий Діл.
- 143.** Добре збережений кратер згаслого вулкана знаходиться на вершині гори:  
А Обавський Камінь;  
Б Маковиця;  
В Анталовицька Поляна;  
Г Бужора.
- 144.** У геологічному відношенні це низькогір'я відповідає Солотвинській западині, яка складена порівняно молодими, винесеними з гір відкладами (моласами), зімнутими у широкі антиклінальні складки, які ускладнені проявами солянокупольної тектоніки:  
А Березне-Липчанське;  
Б Закарпатське;  
В Солотвинське;  
Г Берегівське.
- 145.** Найбільші висоти для усього Солотвинського низькогір'я характерні для хребта Черлений Камінь. Найвищою (872 м) тут є вершина:  
А Обавський Камінь;  
Б Чова Новоселицька;  
В Зелений Камінь;  
Г Велика Берегівська.

- 146.** Найвища точка Закарпатської рівнини має висоту 368 м:  
А Шаланський Гельмець;  
Б Юлівська гора;  
В Велика Берегівська;  
Г Чорна гора.
- 147.** Абсолютні висоти Притисенської рівнини коливаються переважно у межах:  
А 100–120 м;  
Б 200–300 м;  
В 250–350 м;  
Г 400–500 м.
- 148.** Формування Берегівського горбогір'я пов'язано з:  
А проявом тріщинного вулканізму;  
Б горстовим підняттям;  
В проявом вулканізму кратерного типу;  
Г проявами соляно-купольної тектоніки.

### **Тема 5. Клімат Українських Карпат**

- 1.** Радіаційний режим.
- 2.** Особливості атмосферної циркуляції.
- 3.** Характеристика основних метеорологічних елементів.
- 4.** Просторові відмінності клімату.

### **Тест**

- 149.** Найбільша середньорічна величина радіаційного балансу (понад 1700 МДж/м<sup>2</sup>) серед територій Українських Карпат характерна для:  
А північно-західного Передкарпаття;  
Б центральної частини Передкарпаття;  
В південно-західного Закарпаття;  
Г південно-східного Закарпаття.

- 150.** Найменша середньорічна величина радіаційного балансу (менше 1000 МДж/м<sup>2</sup>) серед територій Українських Карпат характерна для:
- А** північно-західного Передкарпаття;
  - Б** центральної частини Передкарпаття;
  - В** Закарпатського низькогір'я;
  - Г** висот понад 1400 м.
- 151.** У гірських районах Українських Карпат прихід і витрата сонячної енергії суттєво відрізняються від рівнинних. Це зумовлено передусім відмінностями у:
- А** абсолютній висоті;
  - Б** прозорості і вологості повітряних мас;
  - В** у хмарності;
  - Г** характері вітрового режиму.
- 152.** У гірських районах Українських Карпат частка поглинутої землею поверхнею сонячної радіації від сумарної в горах суттєво відрізняються від рівнинних. Це зумовлено передусім відмінностями у:
- А** тривалості існування снігового покриву;
  - Б** прозорості і вологості повітряних мас;
  - В** у хмарності;
  - Г** характері вітрового режиму.
- 153.** Українські Карпати впродовж року здебільшого перебувають у смузі:
- А** пониженого тиску;
  - Б** підвищеного тиску;
  - В** нормального тиску;
  - Г** низького тиску.
- 154.** У холодний період (з жовтня по травень) територію гір захоплює могутній виступ:
- А** Азорського максимуму;
  - Б** Азіатського антициклону;
  - В** Арктичного антициклону;
  - Г** Афганського мінімуму.
- 155.** У теплий період року Українські Карпати захоплює відріг:
- А** Азорського максимуму;
  - Б** Азіатського антициклону;
  - В** Арктичного антициклону;
  - Г** Афганського мінімуму.

- 156.** Весняні заморозки та осінні приморозки зазвичай спричинені впливом:  
А Азорського максимуму;  
Б Азіатського антициклону;  
В Арктичних антициклонів;  
Г Афганського мінімуму.
- 157.** Західні і північно-західні атлантичні циклони найбільш активно впливають на погоду Українських Карпат:  
А взимку;  
Б весною;  
В влітку;  
Г восени.
- 158.** Гірсько-долинні вітри влітку мають добре виражену добову періодичність. Удень вони дмуть:  
А вниз схилами гір у долину;  
Б вгору по гірських схилах;  
В у сторону прилеглих рівнини;  
Г з верхньої частини у горло долини.
- 159.** Найвисокогірнішою в Українських Карпатах є сніголавинна метеорологічна станція:  
А Плай;  
Б Яремче;  
В Рахів;  
Г Пожижевська.
- 160.** Середня температура січня становить  $-3^{\circ}\text{C}$  і менше у:  
А середньогір'ї Карпат;  
Б Передкарпатті;  
В високогір'ї Карпат;  
Г низовинному Закарпатті.
- 161.** Середня температура липня становить  $+18\dots+19^{\circ}\text{C}$  у:  
А середньогір'ї Карпат;  
Б Передкарпатті;  
В високогір'ї Карпат;  
Г низовинному Закарпатті.
- 162.** Середня температура січня становить на найвищих вершинах Чорногори та Свидовця становлять близько:  
А  $-3^{\circ}$ ;  
Б  $-5^{\circ}$ ;



- В** – 8°;
- Г** – 12°.

- 163.** Середня температура липня у поясі Карпатських гір до висоти 1500 м знижується до:
- А** +20°;
  - Б** +18°;
  - В** +10°;
  - Г** + 2°.
- 164.** У замкнутих котловинах часто застоюється важке холодне повітря і температура може бути на 10° нижча, ніж у навколишніх горах і вищих шарах тропосфери. Це явище називається:
- А** інверсією температур;
  - Б** амплітудою температур;
  - В** парадоксом температур;
  - Г** градієнтом температур.
- 165.** Початком метеорологічної весни вважають період, коли середньодобові температури повітря стійко переходять через 0°. Найраніше він настає у третій декаді лютого у:
- А** середньогір'ї Карпат;
  - Б** Передкарпатті;
  - В** високогір'ї Карпат;
  - Г** низовинному Закарпатті.
- 166.** Активний розвиток більшості видів рослин починається весною лише при переході середньодобової температури через:
- А** +20°;
  - Б** +15°;
  - В** +10°;
  - Г** + 5°.
- 167.** Активний розвиток більшості видів рослин починається у Передкарпатті зазвичай з:
- А** початку квітня;
  - Б** кінця квітня;
  - В** початку травня;
  - Г** середини травня.

- 168.** Середньорічна кількість опадів становить до 1500 мм і більше у:  
А середньогір'ї Карпат;  
Б Передкарпатті;  
В високогір'ї Карпат;  
Г Закарпатті.
- 169.** Смуга високих передгір'їв з висотами 300—600 м щорічно мають кількість опадів до:  
А 1200 мм;  
Б 800 мм;  
В 700 мм;  
Г 600 мм.
- 170.** Річний хід опадів на всій території Українських Карпат має подібний характер. Більша частина їх випадає у теплу пору року:  
А 80—90%;  
Б 70—80%;  
В 50—70%;  
Г 50—60%.
- 171.** За три зимові місяці опадів випадає в Українських Карпатах:  
А 800—1200 мм;  
Б 500—800 мм;  
В 150—450 мм;  
Г 100—200 мм.
- 172.** Стійкий сніговий покрив зазвичай встановлюється на гірських схилах Українських Карпат:  
А під кінець грудня;  
Б на початку грудня;  
В під кінець листопада;  
Г на початку листопада.
- 173.** Найбільшої потужності сніговий покрив досягає у кінці лютого – на початку березня. На північно-східних схилах високогірних хребтів він сягає 70—90 см, а на південно-західному і до:  
А 100 см;  
Б 150 см;

**В** 200 см;

**Г** 300 см.

174. Якщо на прилеглих рівнинах буває 15-30 днів у році з туманами, то в горах до:
- А** 180 днів;
  - Б** 130 днів;
  - В** 60 днів;
  - Г** 40 днів.
175. Кліматологи виділяють на території Українських Карпат кліматичних зон з декількома підзонами і районами:
- А** 2;
  - Б** 3;
  - В** 4;
  - Г** 6.
176. Найбільша середньорічна величина сонячної радіації (понад 4000 МДж/м<sup>2</sup>) серед природних областей Українських Карпат характерна для:
- А** Полонинсько-Чорногірських Карпат;
  - Б** Передкарпаття;
  - В** Вулканічного Закарпаття;
  - Г** Закарпатської рівнини.

### **Тема 6. Поверхневі і підземні води Українських Карпат**

1. Загальні особливості річок.
2. Річки басейну Сяну і Дністра.
3. Річки басейну Пруту і Сірету.
4. Річки басейну Тиси.
5. Озера та болота, підземні води.

### **Тест**

177. Вододіл Чорного і Балтійського морів, який проходить через Українські Карпати є частиною вододілу:
- А** тільки Карпатського головного;
  - Б** річок Дністер і Стрий;
  - В** тільки Головного Європейського;
  - Г** Головного Європейського і Карпатського головного.

178. У північно-західній частині Українських Карпат невелика кількість водних потоків належить до системи річки Сян — притоки:  
А Дністра;  
Б Тиси;  
В Вісли;  
Г Західного Бугу.
179. Річки північно-східного макросхилю Українських Карпат **НЕ** належать до систем:  
А Вісли;  
Б Дністра;  
В Західного Бугу;  
Г Дунаю.
180. Річки південно-західного макросхилю Українських Карпат теж несуть свої води в Дунай через систему його найбільшої притоки:  
А Тиси;  
Б Прута;  
В Сірету;
181. Серед річок північно-східного макросхилю Українських Карпат до середніх за довжиною течії належать тільки:  
А Дністер;  
Б Сірет;  
В Сян;  
Г Прут.
182. Серед приток першого порядку Українських Карпат до басейну Дунаю **НЕ** належить:  
А Стрий;  
Б Сірет;  
В Тиса;  
Г Прут.
183. У цілому річки басейну Тиси, праві притоки Дністра, витоки Прута і Сірету відносять до річок за типом живлення:  
А змішаного з переважанням підземного;  
Б змішаного з переважанням дощового;  
В змішаного з переважанням снігового;  
Г виключно дощового.

184. Річка Сян, яка має загальну довжину 447 км, бере початок поблизу перевалу:  
А Торунського;  
Б Латірського;  
В Верецького;  
Г Ужоцького.
185. Річки В'яр (66 км) та Вишня (79 км) беруть початок у межах Передкарпатської височини і вже на території Польщі впадають у:  
А Дністер;  
Б Сірет;  
В Сян;  
Г Прут.
186. Річка Дністер – третя за довжиною течії серед річок, що протікають територією України, бере початок на схилі хребта Розлуч, поблизу села:  
А Вовче;  
Б Лисиче;  
В Хащів;  
Г Сянки.
187. Найбільшою правою притокою Дністра є:  
А Свіча;  
Б Стрий;  
В Бистриця;  
Г Лімниця.
188. Вкажіть **НЕ**правильне твердження про річку Стрий:  
А до місця впадіння річки Стрий у Дністер, основна річка має на 58 км більшу довжину;  
Б водність Стрия впродовж року дуже мінлива у порівнянні з Дністром;  
В бере початок річка Стрий на висоті 1000 м над рівнем моря;  
Г на притоках річки є ряд водоспадів (Лазний, Сопітський, Гуркало).
189. Серед карпатських приток Дністра довжину менше 100 км має:  
А Свіча;  
Б Луква;

- В** Бистриця з Бистрицею Надвірнянською;  
**Г** Лімниця.
- 190.** Водоспади Українських Карпат Манявський, Бухтівецький, Черникський, Марянчин, Замлакський належить до система річки:  
**А** Лімниці;  
**Б** Свічі;  
**В** Лукви;  
**Г** Бистриці.
- 191.** Другу за величиною після Дністра систему північно-східного макросхилу Українських Карпат становить система річки:  
**А** Латориці;  
**Б** Прута;  
**В** Сірету;  
**Г** Бистриці.
- 192.** Найбільшим витоком Черемошу є:  
**А** Пістинька;  
**Б** Білий Черемош;  
**В** Чорний Черемош;  
**Г** Путила.
- 193.** Річка Сірет – ліва притока Дунаю бере початок у межах області:  
**А** Львівської;  
**Б** Івано-Франківської;  
**В** Закарпатської;  
**Г** Чернівецької.
- 194.** Найбільшою лівою притокою Дунаю є:  
**А** Прут;  
**Б** Тиса;  
**В** Сірет;  
**Г** Сучава.
- 195.** Найбільшим витоком Тиси є:  
**А** Латориця;  
**Б** Біла Тиса;  
**В** Чорна Тиса;  
**Г** Боржава.

196. Найбільшим за площею серед озер Українських Карпат є:  
А Гірське око;  
Б Синевир;  
В Бребенескул  
Г Марічейка.
197. До завального типу озер **НЕ** належить:  
А Гірське око;  
Б Мертве у Бескидах;  
В Лебедин;  
Г Синевир.
198. Найвисокогірнішим серед озер Українських Карпат є:  
А Ворочівське;  
Б Несамовите;  
В Бребенескул  
Г Марічейка.
199. Серед озер льодовикового походження до підтипу карових **НЕ** належить:  
А Герашаска;  
Б Несамовите;  
В Бребенескул  
Г Марічейка.
200. До вулканічного типу озер Карпат належить:  
А Липовецьке;  
Б Солоне;  
В Апшинецьке  
Г Ворожеска.
201. Особливо селенебезпечним є басейн річки:  
А Сян;  
Б Сірет;  
В Луква;  
Г Черемош.
202. Найбільше поширені зсуви вздовж верхньої течії річки:  
А Стрий;  
Б Дністер;  
В Сян;  
Г Тиса.

- 203.** Всього річок в Українських Карпатах, що мають довжину понад 10 км, близько:
- А** 450;
  - Б** 2800;
  - В** 4500;
  - Г** 28 000.

### **Тема 7. Ґрунтово-рослинний покрив і тваринний світ**

- 1.** Загальні риси рослинного покриву.
- 2.** Лісова рослинність.
- 3.** Лучна рослинність.
- 4.** Високогірна рослинність.
- 5.** Ґрунтовий покрив.
- 6.** Тваринний світ.

### **Тест**

- 204.** В основному (на 35%) видовий склад рослинності Українських Карпат представлений видами:
- А** середньоєвропейських широколистих лісів;
  - Б** високогірної флори;
  - В** степової флори;
  - Г** кримсько-кавказької флори.
- 205.** В Українських Карпатах достатньо чітко виділяються висотні пояси рослинності:
- А** передгірний дубовий, низькогірний смерековий, середньогірний буковий, субальпійський чагарниково-лучний, альпійський;
  - Б** передгірний смерековий, низькогірний буковий, середньогірний дубовий, субальпійський чагарниково-лучний, альпійський;
  - В** передгірний дубовий, низькогірний буковий, середньогірний смерековий, субальпійський чагарниково-лучний, альпійський;



Г передгірний буковий, низькогірний дубовий, середньогірний смерековий, субальпійський чагарниково-лучний, альпійський.

**206.** У передгірному поясі, який піднімається до 400–600, ростуть мішані ліси, що складаються в основному з:

А бука і ялини;

Б ялини і ялиці;

В ялини і модрина;

Г дуба, граба, ялини.

**207.** Низькогірний пояс на північно-східних схилах піднімається від 500—700, а південно-західних до 1350—1450 м. У ньому домінують:

А чисті смерекові ліси;

Б високостовбурні букові, смереково-букові, грабово-букові і дубово-букові ліси;

В труднопрохідні зарості гірської сосни – жерепу та ялівцю;

Г смерекові рідколісся і криволісся.

**208.** Вершини Полонинсько-Чорногірських Карпат, Рахівсько-Чивчинських гір з висотами 1800—2000 м вкриті:

А чистими смерековими лісами;

Б труднопрохідними заростями гірської сосни – жерепу та ялівцю;

В низькотрав'ям утвореним біловусо-щучниковими, осоково-ситниковими угрупованнями;

Г смерековим рідколіссям та криволіссям.

**209.** Бурі гірсько-лісові ґрунти панують в Карпатах на висотах:

А вище 1600 м;

Б вище 1200–1400 м;

В до 600 м;

Г до 400 м.

## **Тема 8. Природоохоронні об'єкти та природо-географічне районування**

- 1.** Фізико-географічне районування Українських Карпат.
- 2.** Екологічні проблеми Карпат. Природоохоронні об'єкти.
- 3.** Особливості природи фізико-географічних підобластей.

### **Тест**

- 210.** Від Подільської височини Передкарпаття відділяється річковими долинами:  
А Черемошу та Прута;  
Б Дністра та Прута;  
В Дністра та Сірету;  
Г Прута та Сірету.
- 211.** Найвищий хребет піднімається окремими вершинами вище 1800 м у природно-географічній області Карпат:  
А Передкарпатській височинній;  
Б Вододільно-Верховинській;  
В Зовнішньофлішевій;  
Г Закарпатського низькогір'я.
- 212.** Найбільш піднятою частиною Зовнішньофлішевих Карпат є:  
А Східні Бескиди;  
Б Скибові Горгани;  
В Привододільні Горгани;  
Г Покутсько-Буковинські Карпати.
- 213.** Геолого-геоморфологічна будова пов'язана, головним чином, з вгнутою Центральною синклінальною тектонічною зоною в природно-географічній області Карпат:  
А Передкарпатській височинній;  
Б Вододільно-Верховинській;  
В Зовнішньофлішевій;  
Г Полонинсько-Чорногірській.

- 214.** У рельєфі переважають низькогірні й середньогірні хребти з м'якими обрисами з абсолютними висотами 800–1200 м у природно-географічній підобласті Карпат:  
А Привододільні Горган;  
Б Бистрице-Селятинського низькогір'я;  
В Скибових Горган;  
Г Свидовецько-Чорногірській.
- 215.** У сучасному рельєфі важливу роль відіграють полонинські поверхні вирівнювання, структурно-денудаційні форми, давньольодовикові (кари, цирки), глибокі річкові долини в природно-географічній області Карпат:  
А Передкарпатській височинній;  
Б Зовнішньофлішевій;  
В Вододільно-Верховинській;  
Г Полонинсько-Чорногірській.
- 216.** Поширені давньольодовикові форми рельєфу (цирки, моренні вали). Стрімкі схили гір глибоко (400–500 м) розчленовані річковими долинами верхів'їв рік Тиса, Чорний і Білий Черемош в природно-географічній області Карпат:  
А Закарпатського низькогір'я;  
Б Зовнішньофлішевій;  
В Вододільно-Верховинській;  
Г Мармароського кристалічного масиву.
- 217.** Березне-Липчанська міжгірна улоговина розташована в природно-географічній області Карпат:  
А Закарпатського низькогір'я;  
Б Зовнішньофлішевій;  
В Вододільно-Верховинській;  
Г Мармароського кристалічного масиву.
- 218.** Із природоохоронних об'єктів державного значення тут знаходяться: Галицький НПП, Княздвірський ботанічний заказник, гідрологічний заказник «Турова дача», ландшафтний заказник «Цецине»:  
А Передкарпатській височинній;  
Б Вододільно-Верховинській;

- В** Зовнішньофлішевій;  
**Г** Закарпатського низькогір'я.
- 219.** Масив Чорна Гора Карпатського біосферного заповідника поблизу м. Виногорова розміщений в природно-географічній області Карпат:  
**А** Закарпатського низькогір'я;  
**Б** Зовнішньофлішевій;  
**В** Вододільно-Верховинській;  
**Г** Мармароського кристалічного масиву.
- 220.** Карпатський національний природний парк (північна частина НПП), національні природні парки «Сколівські Бескиди», «Гуцульщина», Вижницький знаходяться в природно-географічній області Карпат:  
**А** Закарпатського низькогір'я;  
**Б** Зовнішньофлішевій;  
**В** Вододільно-Верховинській;  
**Г** Мармароського кристалічного масиву.
- 221.** У якій природно-географічній області Карпат знаходиться велика частина Карпатського біосферного заповідника (два масиви, включаючи Кузійський)?  
**А** Привододільні Горган;  
**Б** Мармароського кристалічного масиву;  
**В** Скибових Горган;  
**Г** Свидовецько-Чорногірській.
- 222.** У якій природно-географічній області Карпат знаходиться велика частина Карпатського біосферного заповідника (три масиви, включаючи Угольсько-Широколужанський та Свидовецький), Карпатський національний природний парк?  
**А** Передкарпатській височинній;  
**Б** Зовнішньофлішевій;  
**В** Вододільно-Верховинській;  
**Г** Полонинсько-Чорногірській.

223. Єдиний в Україні музей екології гір та історії природокористування в Українських Карпатах розміщений в природно-географічній області Карпат:  
А Закарпатського низькогір'я;  
Б Зовнішньофлішевій;  
В Вододільно-Верховинській;  
Г Мармароського кристалічного масиву.
224. У межах якого НПП розміщена гора Кремінець, де встановлена стела стику 3-х кордонів?  
А Синевир;  
Б “Зачарований край”;  
В Ужанський;  
Г Черемоський.
225. У межах якого НПП розміщений хребет Чорний Діл, який складений палеозойськими кварцитами, кристалічними сланцями, вапняками?  
А Вижницький;  
Б “Зачарований край”;  
В Верховинський;  
Г Черемоський.
226. НПП Верховинський та Черемоський охоплюють значну частину території у природно-географічній підобласті Карпат:  
А Привододільні Горган;  
Б Бистрице-Селятинського низькогір'я;  
В Чивчинській;  
Г Рахівських гір.
227. У межах природно-географічної області розміщені Долина нарцисів Карпатського біосферного заповідника, НПП “Зачарований край”:  
А Закарпатського низькогір'я;  
Б Зовнішньофлішевій;  
В Вододільно-Верховинській;  
Г Мармароського кристалічного масиву.

- 228.** У межах якого НПП розміщено заповідне болото Глуханя поблизу с. Негровець?  
А «Синевир»;  
Б “Зачарований край”;  
В Верховинський;  
Г Черемоський.
- 229.** Який НПП охоплює частини території Запрутських Горган та Покутських Карпат?  
А Верховинський;  
Б “Зачарований край”;  
В Гуцульщина;  
Г Черемоський.
- 230.** У межах якого НПП найвищою є вершина Грегїт (1471 м)?  
А «Гуцульщина»;  
Б “Зачарований край”;  
В Верховинський;  
Г Черемоський.
- 231.** У межах якого природо-заповідного об’єкта охороняється передусім реліктова сосна кедрова європейська?  
А НПП Синевир;  
Б заповідника “Торгани”;  
В Верховинського НПП;  
Г Черемоського НПП.
- 232.** У межах якого природо-заповідного об’єкта знаходиться Молочнобратьський карстовий масив, хребет Чорний Дїл?  
А НПП «Синевир»;  
Б заповідника “Торгани”;  
В Верховинського НПП;  
Г Черемоського НПП.
- 233.** У межах якого природо-заповідного об’єкта знаходяться найглибша карстова печера, карстовий міст?  
А НПП «Синевир»;  
Б Карпатського біосферного заповідника”;  
В Верховинського НПП;  
Г Карпатського НПП.

234. У межах якого природо-заповідного об'єкта знаходяться найбільші ділянки букових та буково-ялицевих пралісів?  
А НПП Синевир;  
Б Карпатського біосферного заповідника”;  
В Верховинського НПП;  
Г Ужанського НПП.
235. У межах якого природо-заповідного об'єкта знаходяться Буковинські водоспади?  
А НПП «Сколівські Бескиди»;  
Б НПП “Синьогора”;  
В Верховинського НПП;  
Г Вишнецького НПП.
236. У межах якого НПП знаходиться заповідне болото «Чорне багно»?  
А «Гуцульщина»;  
Б “Зачарований край”;  
В Верховинській;  
Г Черемоський.
237. Єдиний в Українських Карпатах державний природний заповідник знаходиться у природно-географічній підобласті Карпат:  
А Привододільні Горган;  
Б Бистрице-Селятинського низькогір'я;  
В Скибових Горган;  
Г Свидовецько-Чорногірській.
238. У якій природно-географічній області Карпат знаходиться частина Карпатського біосферного заповідника, національні природні парки «Синевир» та Ужанський?  
А Передкарпатській височинній;  
Б Вододільно-Верховинській;  
В Зовнішньофлішевій;  
Г Полонинсько-Чорногірській.
239. Національних природних парків в межах усіх фізико-географічних областей Українських Карпат сформовано на сьогодні:  
А 1;  
Б 5;

В 8;

Г 11.

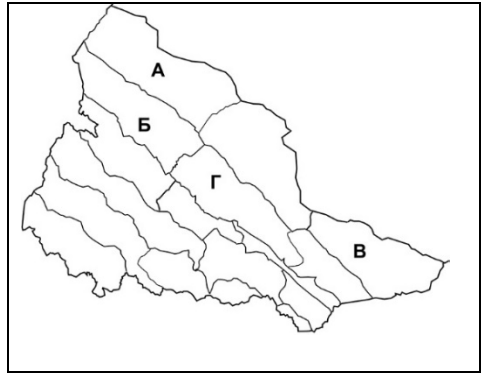
240. Вкажіть якою буквою позначено на картосхемі Покутсько-Буковинське Передкарпаття:

А

Б

В

Г



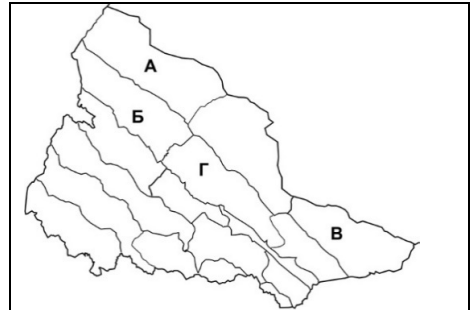
241. Вкажіть якою буквою позначено на картосхемі Українські Східні Бескиди:

А

Б

В

Г



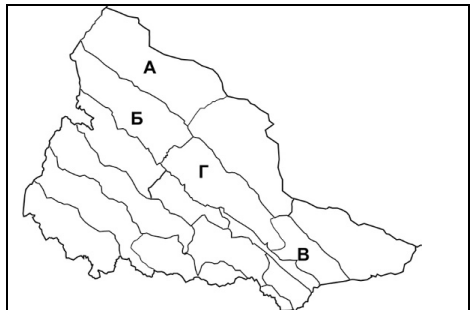
242. Вкажіть якою буквою позначено на картосхемі Скибові Горгани:

А

Б

В

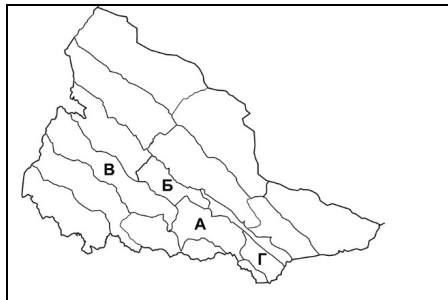
Г





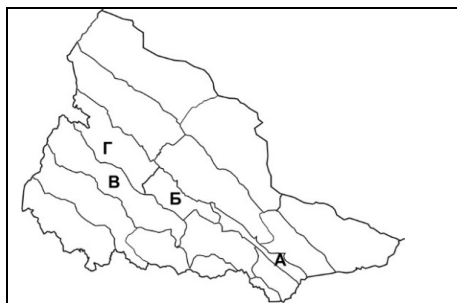
243. Вкажіть якою буквою позначено на картосхемі Свидовецько-Чорногірські Карпати:

- А
- Б
- В
- Г



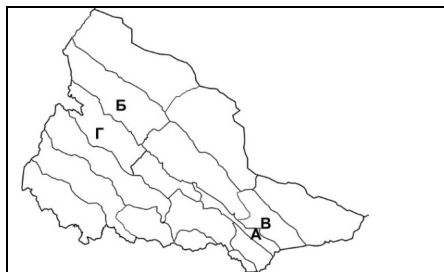
244. Вкажіть якою буквою позначено на картосхемі Бистрице-Селятинське низькогір'я:

- А
- Б
- В
- Г



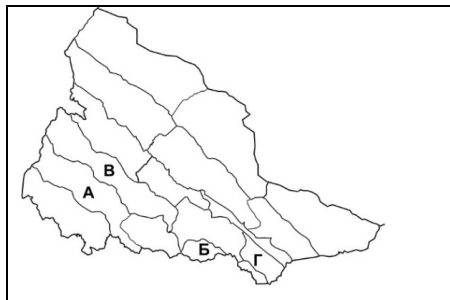
245. Вкажіть якою буквою позначено на картосхемі Сянсько-Ріцька верховина:

- А
- Б
- В
- Г



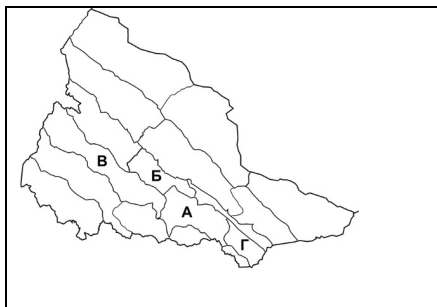
246. Вкажіть якою буквою позначено на картосхемі Гринявсько-Яловичорські Карпати:

- А
- Б
- В
- Г



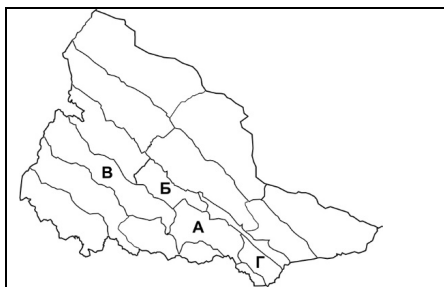
247. Вкажіть якою буквою позначено на картосхемі Полонинське пасмо:

- А
- Б
- В
- Г



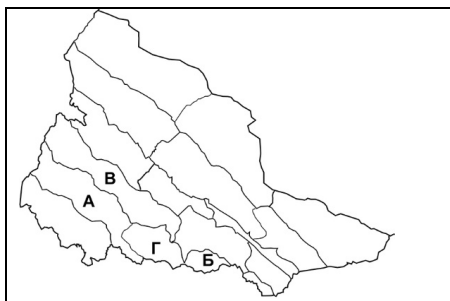
248. Вкажіть якою буквою позначено на картосхемі Привододільні Горгани:

- А
- Б
- В
- Г



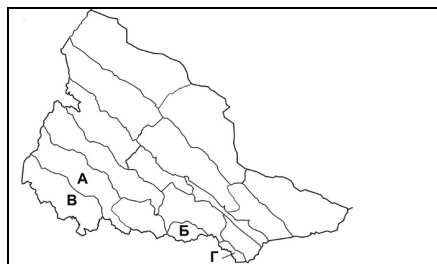
249. Вкажіть якою буквою позначено на картосхемі Солотвинське низькогір'я:

- А
- Б
- В
- Г



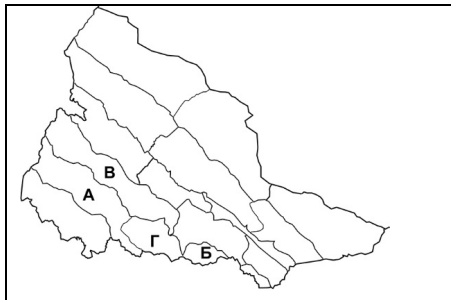
250. Вкажіть якою буквою позначено на картосхемі Чивчинські гори:

- А
- Б
- В
- Г



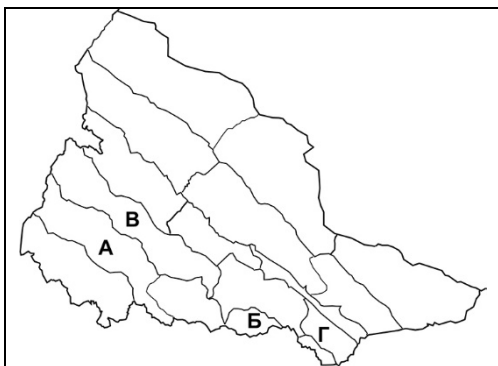
251. Вкажіть якою буквою позначено на картосхемі Вулканічне низькогір'я:

- А
- Б
- В
- Г



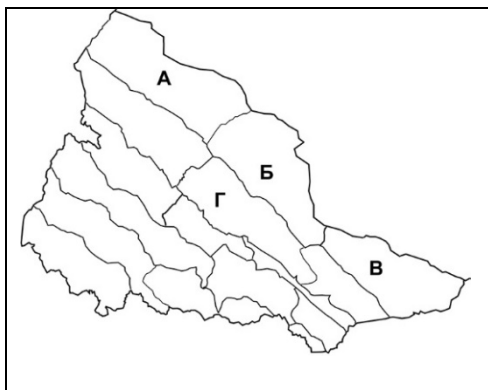
252. Вкажіть якою буквою позначено на картосхемі Рахівські гори:

- А
- Б
- В
- Г



253. Вкажіть якою буквою позначено на картосхемі Прибескидського Передкарпаття:

- А
- Б
- В
- Г



## Зміст

Тема 1. Українські Карпати – частина Карпатської гірської країни .....	1
Тема 2. Геологічна будова та історія розвитку.....	6
Тема 3-4. Геоморфологічне районування та рельєф.....	10
Тема 5. Клімат Українських Карпат.....	28
Тема 6. Поверхневі і підземні води Українських Карпат.....	34
Тема 7. Ґрунтово-рослинний покрив і тваринний світ.....	38
Тема 8. Природоохоронні об'єкти та природо-географічне районування.....	40